






Time: 10 Minutes	Paper Math 3	Total Marks: 10
------------------	--------------	-----------------

6th Month, 3rd Week, 4th Day	Syllabus: Unit 7. Exercise # 2. Q # 1.
------------------------------	--

Q.1. The following picture graph shows the number of students absent during a week: (1 picture = 1 student)

درج ذیل تصویری گراف ایک ہفتے میں غیر حاضر طلباء کی تعداد کو ظاہر کرتا ہے۔ (ایک تصویر = ایک طالب علم)

Monday	
Tuesday	
Wednesday	
Thursday	
Friday	

Observe the above graph and answer the following questions: (10)

اوپر دیے گئے تصویری گراف کا مشاہدہ کر کے نیچے دیے گئے سوالات کے جواب لکھیں۔

(i) How many students were absent on Monday?

پیر کو کتنے طالب علم غیر حاضر تھے؟

(ii) How many students were absent on Tuesday?

منگل کو کتنے طالب علم غیر حاضر تھے؟

(iii) On which day the most number of students were absent?

کس دن سب سے زیادہ طالب علم غیر حاضر تھے؟

(iv) On which day, least number of students were absent?

کس دن سب سے کم طالب علم غیر حاضر تھے؟

(v) What is the total number of students absent on Wednesday and Thursday?






بدھ اور جمعرات کو غیر حاضر ہونے والے طالب علموں کی کل تعداد لکھیں۔

Time: 10 Minutes	Paper Math 3	Total Marks: 10
------------------	--------------	-----------------

6th Month, 3rd Week, 4th Day	Syllabus: Unit 7. Exercise # 2. Q # 1.
------------------------------	--

Q.1. The following picture graph shows the number of students absent during a week: (1 picture = 1 student)

درج ذیل تصویری گراف ایک ہفتے میں غیر حاضر طلباء کی تعداد کو ظاہر کرتا ہے۔ (ایک تصویر = ایک طالب علم)

Monday	
Tuesday	
Wednesday	
Thursday	
Friday	

Observe the above graph and answer the following questions: (10)

اوپر دیے گئے تصویری گراف کا مشاہدہ کر کے نیچے دیے گئے سوالات کے جواب لکھیں۔

(i) How many students were absent on Monday?

پیر کو کتنے طالب علم غیر حاضر تھے؟

(ii) How many students were absent on Tuesday?

منگل کو کتنے طالب علم غیر حاضر تھے؟

(iii) On which day the most number of students were absent?

کس دن سب سے زیادہ طالب علم غیر حاضر تھے؟

(iv) On which day, least number of students were absent?

کس دن سب سے کم طالب علم غیر حاضر تھے؟

(v) What is the total number of students absent on Wednesday and Thursday?

بدھ اور جمعرات کو غیر حاضر ہونے والے طالب علموں کی کل تعداد لکھیں۔